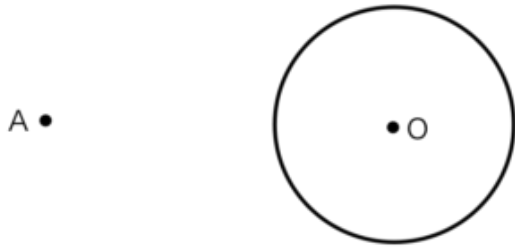


Section 3

点Aを通る円Oの接線を作図していきます。

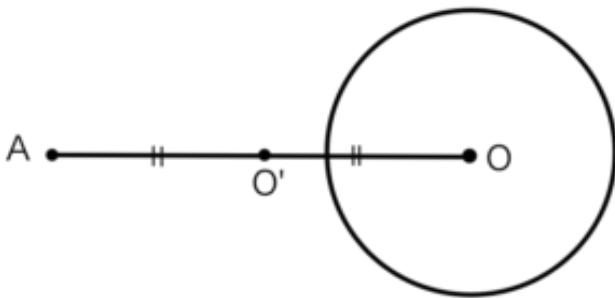
点A,点Oの中点を引けますか？



Section 4

点Aを通る円Oの接線を作図していきます。

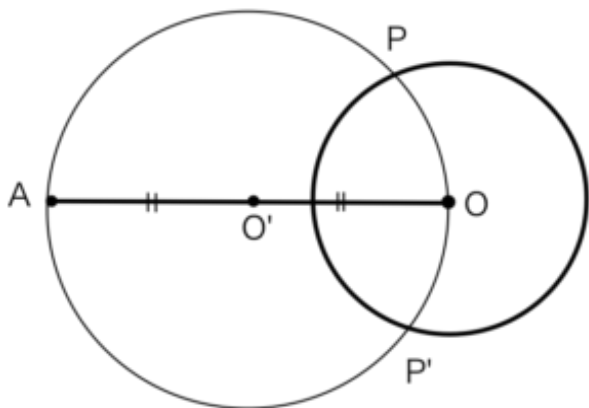
OAの中点である点O'からO'Aが半径となるように円を描きましょう。



Section 5

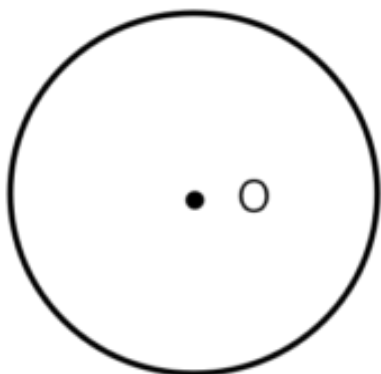
点Aを通る円Oの接線を作図していきます。

Aから円Oと円O'の交点P,P'に線をひきましょう。



Section 8

点Aを通る円Oの接線を作図できますか？



Section 9

点Aが接点となる円Oの接線を作図できますか？

