


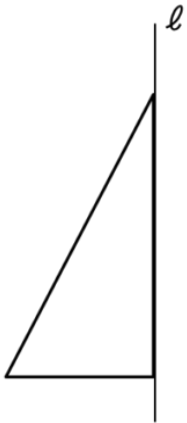
Section 1

この図を、直線 ℓ を軸として1回転して出来る回転体の見取り図を描けますか？



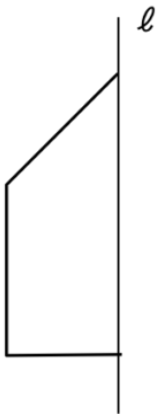
Section 2

この図を、直線 ℓ を軸として1回転して出来る回転体の見取り図を描けますか？



Section 3

この図を、直線 ℓ を軸として1回転して出来る回転体の見取り図を描けますか？



Section 4

この図を、直線 ℓ を軸として1回転して出来る回転体の見取り図を描けますか？



Section 5

この図を、直線 ℓ を軸として1回転して出来る回転体の見取り図を描けますか？



Section 6

この図を、直線 ℓ を軸として1回転して出来る回転体の見取り図を描けますか？

