


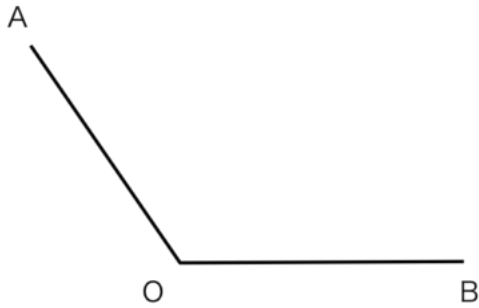
Section 1

垂直二等分線を引けますか？



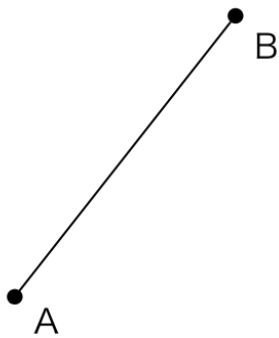
Section 4

角の二等分線を引けますか？




Section 2

垂直二等分線を引けますか？



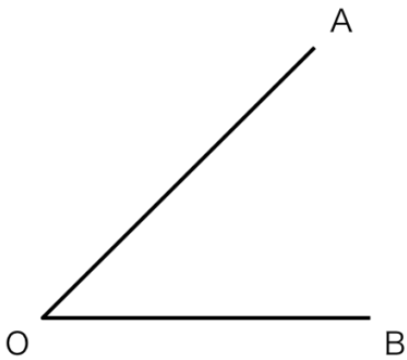
Section 5

点Aを通る垂線を引けますか？



Section 3

角の二等分線を引けますか？



Section 6

点Aを通る垂線を引けますか？

